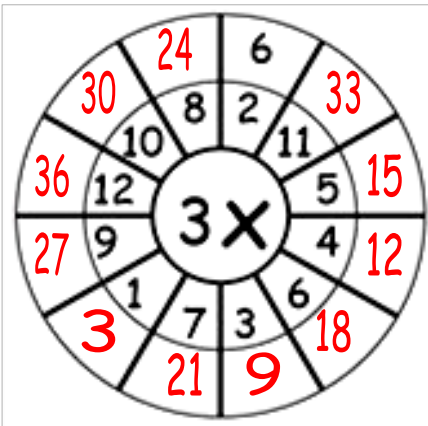
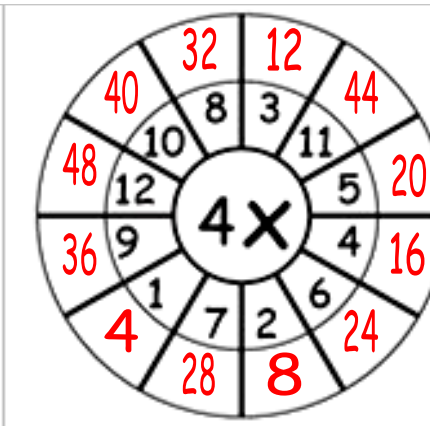
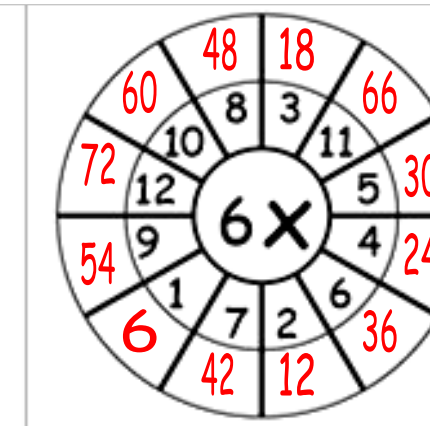
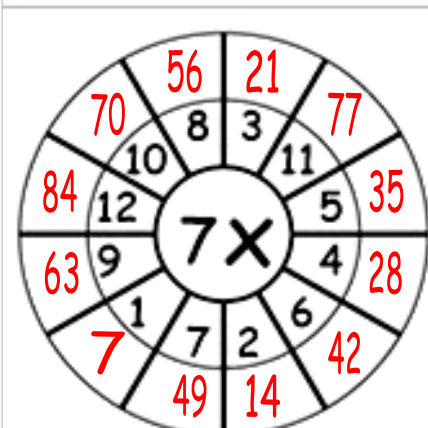
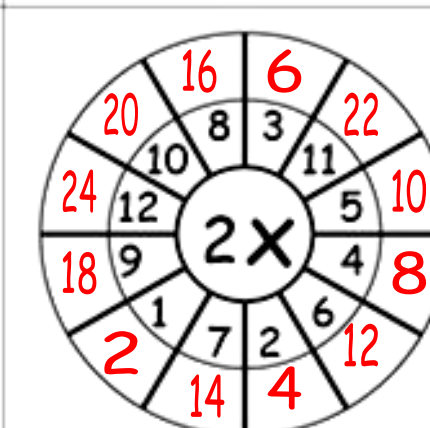
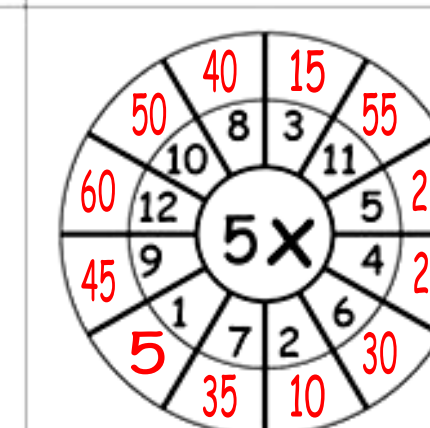

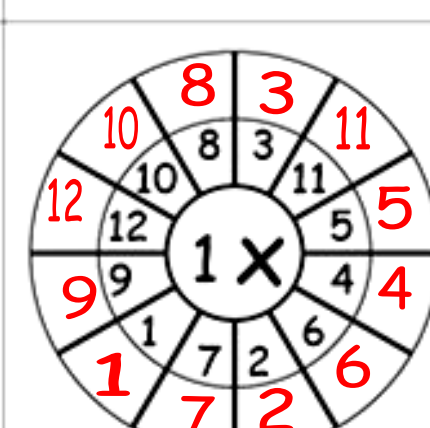
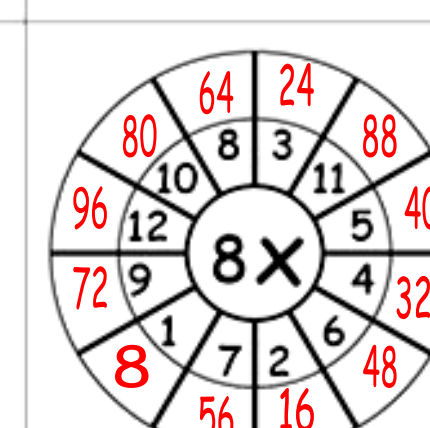


Μαθηματικά Γ΄ τάξης

Όνοματεπώνυμο: _____ Ημερομηνία: _____ Τάξη: _____

1. Συμπλήρωσε προσεκτικά τα γινόμενα στους τροχούς:

2. Τώρα ετοιμάσου για λίγη εξάσκηση στη διαίρεση:

$40 : 8 = 5$	$24 : 8 = 3$	$24 : 3 = 8$	$32 : 8 = 4$	$35 : 7 = 5$ ή $45 : 9 = 5$ ή $40 : 8 = 5$ κ.α.
$32 : 8 = 4$	$81 : 9 = 9$	$45 : 5 = 9$	$64 : 8 = 8$	$36 : 6 = 6$ ή $54 : 9 = 6$ ή $42 : 7 = 6$ κ.α.
$63 : 7 = 9$	$36 : 4 = 9$	$28 : 7 = 4$	$35 : 7 = 5$	$35 : 5 = 7$ ή $49 : 7 = 7$ ή $63 : 9 = 7$ κ.α.
$63 : 9 = 7$	$21 : 3 = 7$	$27 : 9 = 3$	$36 : 9 = 4$	$40 : 5 = 8$ ή $32 : 4 = 8$ ή $64 : 8 = 8$ κ.α.
$42 : 7 = 6$	$49 : 7 = 7$	$21 : 3 = 7$	$63 : 7 = 9$	$45 : 5 = 9$ ή $81 : 9 = 9$ ή $72 : 8 = 9$ κ.α.

3. Και τώρα προβλήματα! Να θυμάσαι να τα διαβάσεις προσεκτικά. Φτιάξε και ένα σχέδιο για να σε βοηθήσει κάθε φορά:

- Ο Νίκος αγόρασε 6 παραμύθια που στοίχιζαν το καθένα και 2 κουτιά με χρώματα που στοίχιζαν €6 το καθένα. Πόσα πλήρωσε;



Σχεδιάσε εδώ τα πράγματα που αγόρασε ο Νίκος:



Μαθηματική πρόταση: παραμύθια: $6 \times 8 = 48$, χρώματα: $2 \times 6 = 12$, συνολικά: $48 + 12 = 60$

ή $(6 \times 8) + (2 \times 6) = 60$

Απάντηση: Πλήρωσε €60

- Η κυρία Χαρά αγόρασε ένα 3 φανέλες που στοίχιζαν €12 η κάθε μια και 2 παντελόνια που στοίχιζαν €25 το καθένα. Πόσα πλήρωσε;



Σχεδιάσε εδώ τα πράγματα που αγόρασε η κυρία Χαρά:



Μαθηματική πρόταση: φανέλες: $3 \times 12 = 36$, παντελόνια: $2 \times 25 = 50$, συνολικά: $36 + 50 = 86$

ή $(3 \times 12) + (2 \times 25) = 86$

Απάντηση: Πλήρωσε €86