



Μαθηματικά Γ΄ τάξης

Όνομα:..... Τάξη: Β΄..... Ημερομηνία:.....

1. Να σχεδιάσεις δύο διαφορετικά ορθογώνια που να έχουν το ίδιο εμβαδόν με το πράσινο ορθογώνιο:




2. Να σχεδιάσεις δύο διαφορετικά ορθογώνια που να έχουν την ίδια περίμετρο με το κόκκινο τετράγωνο:



3. Ρίξε δύο ζάρια.



Φτιάξε ένα **κόκκινο** ορθογώνιο με πλευρές τους δύο αριθμούς που έφερεις.
 Στη συνέχεια ξανακάνε το ίδιο ακόμα δύο φορές και φτιάξε κι άλλα ορθογώνια:
 ένα **μπλε** και ένα **πράσινο**.



Τώρα που έφτιαξες τα δύο ορθογώνιά σου βρες την περίμετρο και το εμβαδόν τους:

	Εμβαδόν	Περίμετρος
<u>Κόκκινο ορθογώνιο:</u>		
<u>Μπλε ορθογώνιο:</u>		
<u>Πράσινο ορθογώνιο:</u>		

4. Να κυκλώσεις τα σχήματα στα οποία είναι χρωματισμένο μεγαλύτερο από το μισό μέρος:

