

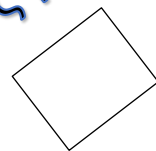
## ΚΡΥΠΤΟ-ΠΟΛΛΑΠΛΑΣΙΑΣΜΟΙ

Άσκηση 1: Βρίσκω τους κρυμμένους πολλαπλασιασμούς, τους κυκλώνω και τους γράφω δίπλα.

5	3	12	5	6	30
7	3	27	9	6	54
5	5	76	3	4	12
5	1	25	8	8	64
9	5	45	6	8	9
35	7	8	56	9	6
7	0	9	42	1	7
8	0	3	9	9	81
56	3	18	6	2	0
9	5	6	3	18	81
6	5	30	5	8	40

1. \_\_\_\_\_
2. \_\_\_\_\_
3. \_\_\_\_\_
4. \_\_\_\_\_
5. \_\_\_\_\_
6. \_\_\_\_\_
7. \_\_\_\_\_
8. \_\_\_\_\_
9. \_\_\_\_\_
10. \_\_\_\_\_
11. \_\_\_\_\_
12. \_\_\_\_\_
13. \_\_\_\_\_
14. \_\_\_\_\_
15. \_\_\_\_\_
16. \_\_\_\_\_
17. \_\_\_\_\_
18. \_\_\_\_\_
19. \_\_\_\_\_
20. \_\_\_\_\_

Πόσους βρήκες;




# ΠΟΛΛΑΠΛΑΣΙΑΜΟΣ



0

2

4



0

3


6



0

4


8



0

5

10



0

6

12



0

7

14

Όνομα: \_\_\_\_\_ Τάξη: \_\_\_\_\_