



ΜΑΘΗΜΑΤΙΚΑ Β' ΤΑΞΗΣ


ΟΝΟΜΑ:.....



ΕΝΟΤΗΤΑ 2η

10. ΦΤΙΑΧΝΟ ΔΙΨΗΦΙΟΥΣ ΑΡΙΘΜΟΥΣ ΜΕ ΠΡΟΥΠΟΘΕΣΕΙΣ

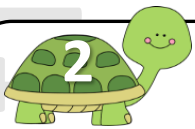
© stintaxi.com



Τα βέλη που έριξε ο μικρός ινδιάνος ψάχνουν να βρουν το στόχο τους. Πού θα χτυπήσει το καθένα; Συνέχισε με γραμμή μέχρι το σωστό στόχο:

$24 + 13$
 $32 + 36$
 $43 + 4$
 $75 + 14$
 $51 + 45$


68
 96
 89
 37
 47



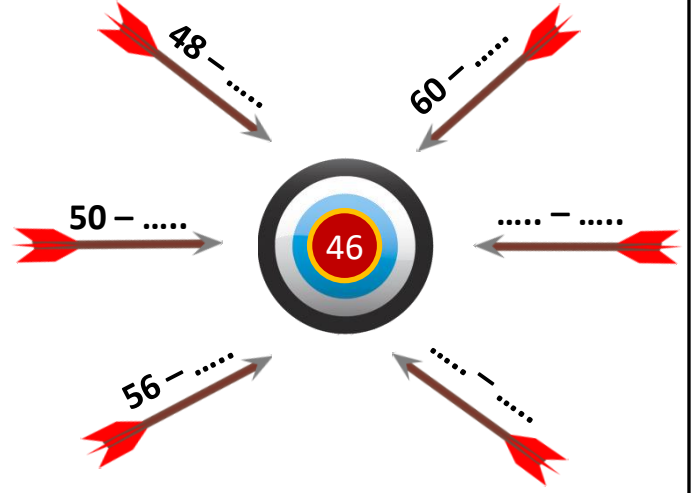
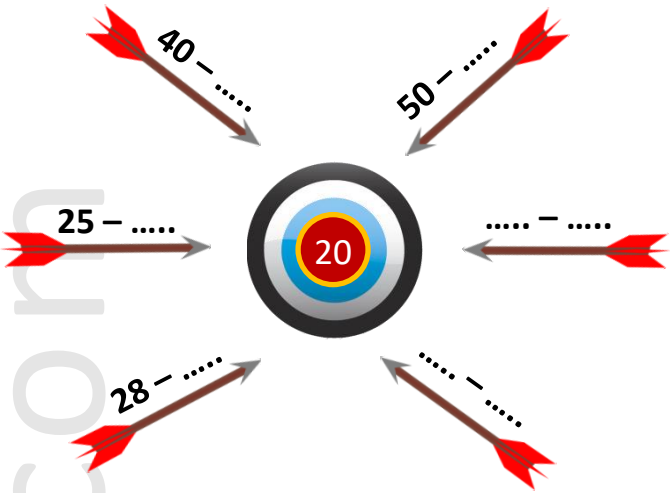
Μπορείς να συμπληρώσεις τα κενά, ώστε κάθε φορά να φτάνεις στον αριθμό στόχο;

Target 1 (Center: 70):
 Arrows: $40 + \dots$, $35 + \dots$, $60 + \dots$, $\dots + \dots$, $69 + \dots$, $\dots + \dots$

Target 2 (Center: 58):
 Arrows: $50 + \dots$, $55 + \dots$, $40 + \dots$, $\dots + \dots$, $51 + \dots$, $\dots + \dots$



Μπορείς τώρα κάνοντας αφαίρεση να συμπληρώσεις τα κενά, ώστε κάθε φορά να φτάνεις στον αριθμό στόχο;



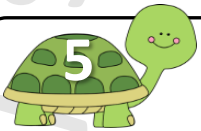
Ο Γιώργος έχει 20 κάρτες με αυτοκίνητα και 19 με αεροπλάνα. Πόσες κάρτες έχει συνολικά;



Εκτιμώ: Ο Γιώργος έχει κάρτες.

Υπολογίζω:

Απαντώ: Ο Γιώργος έχει κάρτες.



Η Νεφέλη έχει στον κουμπαρά της 32 €. Θέλει να αγοράσει τα αγαπημένα της αθλητικά παπούτσια, τα οποία κοστίζουν 68 €. Πόσα χρήματα πρέπει να μαζέψει ακόμα;



Εκτιμώ: Χρειάζεται ακόμα €

Υπολογίζω:

Απαντώ: