



ΔΗΜΟΤΙΚΟ ΣΧΟΛΕΙΟ

Όνομα: _____ Τάξη: _____

1. Βρες το άθροισμα.

$35+4=$

71

83



$53+5=$

$+ 8$

$+ 6$

5 β.

$24+3=$



2. Βρες τη διαφορά.

$48-6=$

67

59

5 β.

$74-3=$

$- 4$

$- 7$

$35-3=$

3. Λύσε τα προβλήματα.

Ο Μάρκος έχει στον κουμπαρά του τρία χαρτονομίσματα των δέκα ευρώ και τρία κέρματα του ενός ευρώ. Θέλει να αγοράσει ένα παιδικό κομπιούτερ που στοιχίζει 39 ευρώ. Πόσα χρήματα χρειάζεται ακόμα;

Απάντηση: _____

Ο πατέρας του Δημήτρη του αγόρασε ένα ποδήλατο. Έδωσε στο ταμείο έξι χαρτονομίσματα των δέκα ευρώ και ένα χαρτονόμισμα των πέντε ευρώ. Πήρε ρέστα 4 ευρώ. Πόσα στοιχισε το ποδήλατο;

Απάντηση: _____





Λύσε τις ασκήσεις.

$43 + \dots = 48$

$57 - \dots = 52$

$70 : \dots = 10$

$61 + \dots = 67$

$86 - \dots = 84$

$10 \times \dots = 90$

$32 + \dots = 36$

$59 - \dots = 51$

$40 : \dots = 5$

$25 + \dots = 29$

$78 - \dots = 75$

$60 : \dots = 3$

Η Μαρία μάζεψε μαργαρίτες από τον κήπο. Έδωσε 6 μαργαρίτες στον αδελφό της και της έμειναν 22. Πόσες μαργαρίτες μάζεψε η Μαρία;



Απάντηση: _____

Στο λεωφορείο ήταν 49 επιβάτες. Στη στάση κατέβηκαν 5. Πόσοι επιβάτες έμειναν στο λεωφορείο;




Απάντηση: _____

Στο σακούλι μου είχα βόλους. Έδωσα 3 βόλους στο φίλο μου και μου έμειναν 24 βόλοι. Πόσους βόλους είχα στο σακούλι;

Απάντηση: _____

Είχα στον κουμπάρά μου μερικά χρήματα. Αγόρασα ένα μολύβι που στοίχιζε 8 σεντ. Μου έμειναν 71 σεντ.



Πόσα χρήματα είχε ο Χρήστος στον κουμπάρά του;

Απάντηση: _____

Η Χρυστάλλα και η Λουίζα αγόρασαν ένα ποδήλατο η καθεμιά. Το ποδήλατο της Χρυστάλλας στοίχισε 53 ευρώ. Το ποδήλατο της Λουίζας ήταν 5 ευρώ πιο ακριβό. Πόσα στοίχισε το ποδήλατο της Λουίζας;

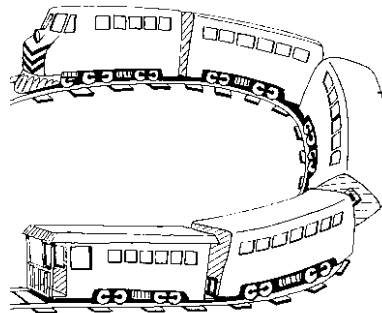
Απάντηση: _____

Ο Χαράλαμπος αγόρασε μια μπάλα που η τιμή της ήταν 80 σεντ. Πλήρωσε με κέρματα των 20 σεντ. Πόσα κέρματα έδωσε;



Απάντηση: _____

Βάλε κάτω από τα κέρματα που χρειάζεσαι για να αγοράσεις το τρενάκι.



87 σεντ



Στο πορτοφόλι μου υπάρχουν πέντε κέρματα. Η αξία τους είναι 49 σεντ. Μπορείς να μαντέψεις ποια κέρματα είναι;

Κάνε τις πράξεις:

$5 \times 3 =$

$7 \times 5 =$

9

10

7

$2 \times 20 =$

$20 \times 5 =$

X 5

X 4

X 10

$8 \times 5 =$

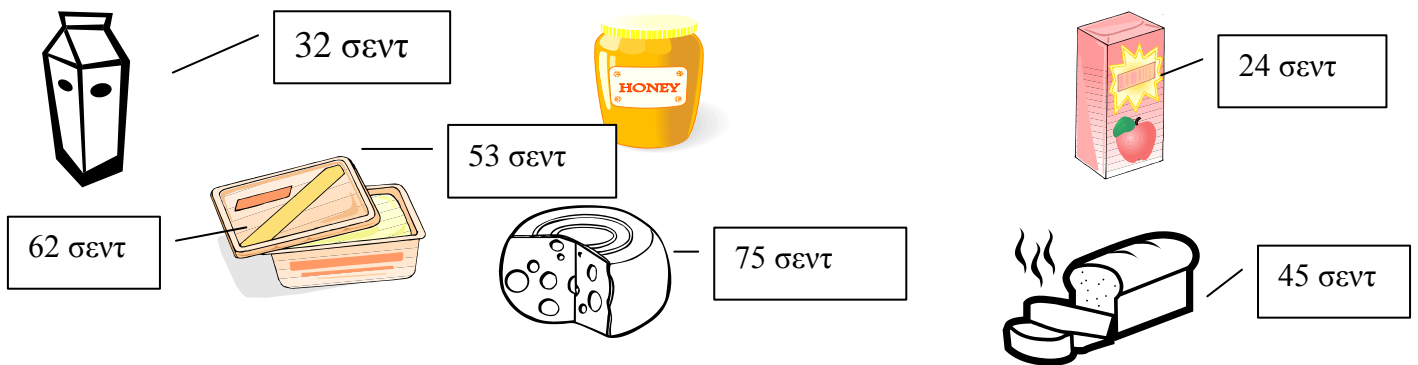
$5 \times 4 =$

$6 \times 5 =$

$5 \times 9 =$

$3 \times 30 =$

$2 \times 50 =$



Αγόρασα ένα λίτρο γάλα και ένα χυμό. Πόσα πλήρωσα;

Απάντηση: _____

Αγόρασα ένα κουτί μαρμελάδα και ψωμί. Πόσα πλήρωσα;

Απάντηση: _____

Κρατούσα ένα ευρώ. Αγόρασα ένα τυρί. Πόσα χρήματα μου έμειναν;









Απάντηση: _____

Πόσο πιο φθινό είναι το γάλα από το βούτυρο;

Απάντηση: _____

Γράψε ένα δικό σου πρόβλημα για τον τιμοκατάλογο.

Η γραφική παράσταση δείχνει πόσα παιδιά έχουν στο σπίτι τους σκύλο, γάτα, κότες, κουνέλι.

Πόσα παιδιά έχουν στο σπίτι τους σκύλο; _____

Πόσα παιδιά έχουν στο σπίτι τους γάτα; _____





Πόσα παιδιά έχουν στο σπίτι τους κότες; _____

Πόσα παιδιά έχουν στο σπίτι τους κουνέλι; _____

Γράψε μια ερώτηση χρησιμοποιώντας τη λέξη περισσότερα και μια ερώτηση χρησιμοποιώντας τη λέξη λιγότερα.

Ο Κωνσταντίνος αγόρασε μία ξύστρα. Η Ελευθερία αγόρασε ένα κουτί χρωματιστά.

Συμπλήρωσε τον πίνακα
για να δείξεις πόσα χρήματα έμειναν στο κάθε παιδί.

Όνομα	Χρήματα που είχε	Αγόρασε	Χρήματα που έμειναν
Κωνσταντίνος		 35 σ.	_____
Ελευθερία		 62 σ.	_____

Πόσα δισκάκια χρειάζεται ο ζαχαροπλάστης, για να βάλει 45 τάρτες, αν κάθε δισκάκι χωρεί 5 τάρτες;

Απάντηση: _____

Πόσα δάκτυλα έχουν 10 χέρια;

Απάντηση: _____

Καλή επιτυχία!