



Όνομα: Τάξη:


⇒ Χρωμάτισε δέκα λουλούδια.




⇒ Χρωμάτισε όσα τετραγωνάκια δείχνει ο αριθμός.



16



40



62

⇒ Χρωμάτισε τον αριθμό και συμπλήρωσε τα κουτάκια.

Δεκάδες	Μονάδες	Χρωματίζω	Αριθμός
1	6		<input type="text"/>
3	0		<input type="text"/>

Δεκάδες	Μονάδες	Χρωματίζω	Αριθμός
1	3		<input type="text"/>
4	7		<input type="text"/>

⇒ Συνέχισε τα μοτίβα.

❁ 0, 10, 20,,,,,,,,

❁ 10, 15, 20, 25, 30, 35,,,,,,

⇒ Κόκλωσε το μεγαλύτερο

14 17

50 30

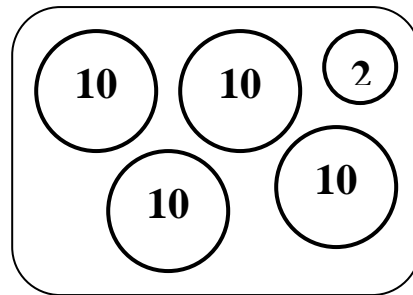
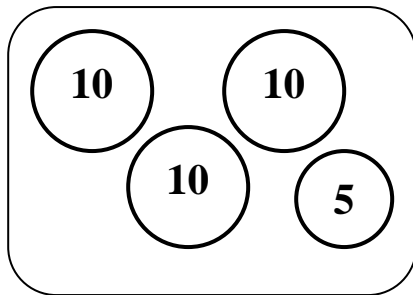
83 81

⇒ Ποιον αριθμό έχει στο μυαλό της η Καίτη;



- Ο αριθμός είναι ανάμεσα στο 50 και το 70.
- Είναι μεγαλύτερος από το 63.
- Τελειώνει σε 8.

⇒ Πόσα χρήματα έχει το κάθε παιδί;



⇒ Στη σακούλα είναι έξι αριθμοί. Γράψε τους σε σειρά αρχίζοντας από το μικρότερο.

