

# Ώρα για μαθηματικά...



## 1. Γράψε ποιος αριθμός είναι μετά το:

15  $\Rightarrow$  .....

11  $\Rightarrow$  .....

10  $\Rightarrow$  .....

17  $\Rightarrow$  .....

13  $\Rightarrow$  .....

18  $\Rightarrow$  .....

19  $\Rightarrow$  .....

12  $\Rightarrow$  .....

## 2. Γράψε ποιος αριθμός είναι πριν το:

11  $\Rightarrow$  .....

14  $\Rightarrow$  .....

10  $\Rightarrow$  .....

19  $\Rightarrow$  .....

20  $\Rightarrow$  .....

13  $\Rightarrow$  .....

17  $\Rightarrow$  .....

12  $\Rightarrow$  .....

## 3. Γράψε ποιος αριθμός έχει:

4 ΔΕΚΑΔΕΣ  $\Rightarrow$  .....

9 ΔΕΚΑΔΕΣ  $\Rightarrow$  .....

10 ΔΕΚΑΔΕΣ  $\Rightarrow$  .....

5 ΔΕΚΑΔΕΣ  $\Rightarrow$  .....

1 ΔΕΚΑΔΑ  $\Rightarrow$  .....

## 4. Βρες το αποτέλεσμα

$10 + 4 =$

$10 + 2 =$

$10 + 10 =$

$10 + 5 =$

$10 + 3 =$

$10 + 8 =$

$10 + 1 =$

$10 + 6 =$



Όνομα: .....

Τάξη: .....

Ημερομηνία: .....

Γράψε τον προηγούμενο και επόμενο αριθμό

..... 36 .....

..... 80 .....

..... 10 .....

..... 48 .....

..... 39.....

..... 90 .....

..... 30 .....

..... 56 .....

..... 70 .....

..... 99 .....

..... 60 .....

..... 92 .....

..... 50 .....

..... 69 .....

..... 41 .....

..... 31 .....

..... 98 .....

..... 38 .....

..... 40 .....

..... 32 .....

..... 61 .....

Βρες ποιος αριθμός:

➤ Έχει 5 δεκάδες  $\Rightarrow$  .....


➤ Έχει 8 μονάδες  $\Rightarrow$  .....

➤ Είναι μεταξύ του 50 και του 60  $\Rightarrow$  .....

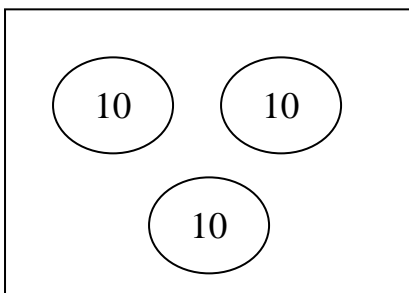
➤ Έχει 2 μονάδες και 2 δεκάδες  $\Rightarrow$  .....

➤ Οι μονάδες του είναι 0  $\Rightarrow$  .....

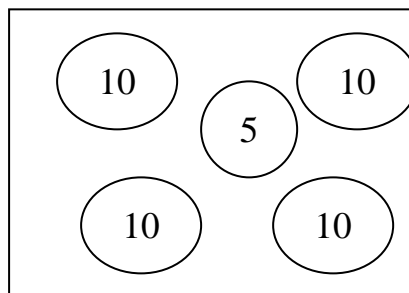
22	53	18
80	57	



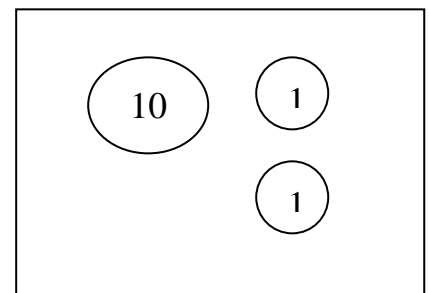
Γράψε πόσα χρήματα κρατά το κάθε παιδάκι.



Μάριος: .....




Ελένη: .....



Μαρία: .....

Όνομα: ..... Ημερ. : .....

## Βρες το αποτέλεσμα



$10 + 1 =$

$20 + 3 =$

$50 + 5 =$

$30 + 7 =$

$30 + 6 =$

$50 + 1 =$

$30 + 8 =$

$10 + 8 =$

$10 + 8 =$

$40 + 4 =$

$10 + 2 =$

$10 + 3 =$

$10 + 4 =$

$10 + 7 =$


$10 + 9 =$

$10 + 1 =$

$10 + 0 =$


$10 + 8 =$

$10 + 10 =$



Ώρα για παιχνίδι!  
Είσαι έτοιμος;

- Ο Αντώνης έχει 3 δεκάδες με καλαμάκια.
- Η Ελένη έχει 4 δεκάδες με καλαμάκια.
- Ο Γιώργος έχει τα δύο δεκάδες περισσότερες από τα καλαμάκια του Αντώνη.
- Ο Αντρέας έχει 1 δεκάδα λιγότερη από τα καλαμάκια της Ελένης.



	ΔΕΚΑΔΕΣ	ΚΑΛΑΜΑΚΙΑ
Αντώνης		
Ελένη		
Γιώργος		
Αντρέας		