




## Επανάληψη στα Μαθηματικά

1. Γράψε ποιος αριθμός έχει:


- ☺ 3 δεκάδες και 2 μονάδες: .....
- ☺ 1 δεκάδα και 8 μονάδες: .....
- ☺ 5 δεκάδες: .....
- ☺ 10 δεκάδες: .....
- ☺ 7 μονάδες: .....




2. Χρωμάτισε τόσα τετραγωνάκια όσα δείχνει ο αριθμός.



18



40



61

3. Βάλε το σημάδακι που ταιριάζει: < > =

11 ..... 19

30 ..... 80

51 ..... 39

54 ..... 45


7 δεκ. .... 70

3 δεκ. .... 20

#### 4. Συνέχισε τα μοτίβα

- ☺ 10, 11, 12, 13, ....., ....., ....., ....., .....
- ☺ 10, 20, 30, 40, ....., ....., ....., ....., .....
- ☺ 13, 23, 33, 43, ....., ....., ....., ....., .....
- ☺ 10, 12, 20, 22, 30, 32 ....., ....., ....., ....., .....

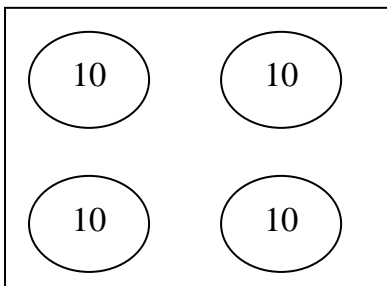
#### 5. Βάλε τους αριθμούς στη σειρά ξεκινώντας από το μικρότερο



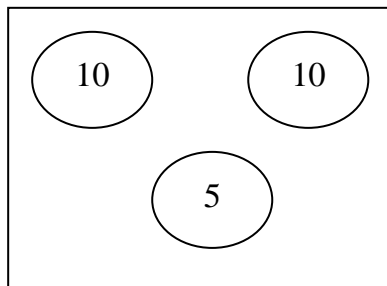
#### 6. Γράψε τον προηγούμενο και επόμενο αριθμό

- ..... 13 .....      ..... 20 .....      ..... 64 .....
- ..... 80 .....      ..... 71 .....      ..... 59 .....

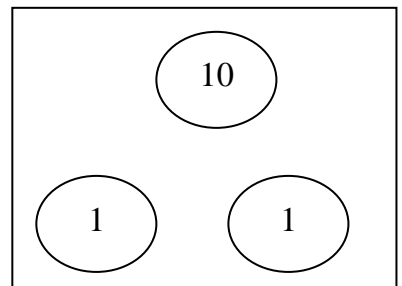
#### 7. Βρες πόσα χρήματα έχει το κάθε παιδάκι.



Μαρία: .....



Αντρέας: .....




Ελένη: .....


8. ☺ Γράψε έναν αριθμό μεταξύ του 30 και του 40 .....
- ☺ Γράψε έναν αριθμό μεταξύ του 70 και του 80 .....

**9. Ετοιμάσου! Ώρα για κρυμμένους αριθμούς!**

Σκέφτομαι έναν αριθμό.  
Είναι μεταξύ του 40 και του 50.  
Τελειώνει σε 8.  
Τον βρήκες; .....



Σκέφτομαι έναν αριθμό.  
Είναι μεταξύ του 60 και του 80.  
Είναι μικρότερος του 72.  
Τελειώνει σε 5.  
Τον βρήκες; .....



**Επιτέλους τέλειωσες.  
Ώρα να ξεκουραστείς!**